

STAR PUBLIC SCHOOL

Dear Parents,

Today's assignment (class 1st)

👉 **Maths - Worksheet**

👉 **Hindi Grammar - पाठ 1 हमारी भाषा
(page number- 5 & 6) in Book**

👉 **EVS - Name the Following in
Notebook**

👉 **Zumba**

Home Assignment -

👉 **Hindi - पाठ 1 (page number -6)**

Bring EVS worksheet Tommorrow

माँ-बेटी के बीच बातचीत



माँ, आज हम
कहाँ घूमने
चलेंगे?



मान्या, आज
हम बगीचे में
घूमने चलेंगे।

माँ, मैं रिया और
श्रुति को भी
बुला लूँ क्या?



हाँ, हाँ
बुला लो।

मान्या माँ से सवाल पूछ रही है और माँ सुनकर जवाब दे रही हैं।

बगीचे में बातचीत

बच्चो, देखो कितने प्यारे
फूल खिले हुए हैं। क्या हमें
इन्हें तोड़ना चाहिए?

इस बगीचे में तो
बहुत सुंदर फूल हैं।

नहीं, फूल तोड़ना
अच्छी बात नहीं है।

अरे, यह तितली
कितनी सुंदर है।

अध्यापन-संकेत : बच्चों को बताइए कि हमारे लिए भाषा बहुत ज़रूरी है। भाषा के द्वारा ही हम अपनी बात दूसरों तक पहुँचा सकते हैं और दूसरों की बात समझ सकते हैं।

कुछ बच्चे सोच रहे हैं और मान्या की मम्मी उनसे उनकी पसंद पूछ रही हैं। फिर एक बच्चा उन्हें अपनी बात बता रहा है। यह बताना ही भाषा है।

देखा बच्चो, सभी चित्रों में अलग-अलग ढंग से बातें की गई हैं। हम बोलकर या इशारों से अपनी बात समझा सकते हैं।

अब तक हमने सीखा

- पूछना, बताना, सोचना, समझना और समझाना भाषा है।

अभ्यास

23.04.25 CW

1. नीचे दिए गए प्रश्नों के उत्तर दीजिए—

[Evaluation]

(क) आप घर में कौन-सी भाषा बोलते हैं? हिन्दी

(ख) आप पाठशाला में कौन-कौन सी भाषाएँ सीखते हैं? हिन्दी, अंग्रेजी

(ग) इनमें से कौन-सा भाषा का रूप नहीं है?



सोचना



सोना



बोलना

2. आप इन सवालों के क्या जवाब देंगे? H.W.

[Experiential Learning]

- आपको कौन-सा रंग सबसे अच्छा लगता है?
- आपको कौन-सी मिठाई अच्छी लगती है?
- आपके साथ कौन-कौन खेलते हैं?
- आपकी कक्षा में कितने बच्चे हैं?

3. आप छुट्टी के दिन माँ की मदद कैसे करते हैं?

[Collaboration]

1. Learning Numbers 1 to 20



Worksheet

A. Choose the correct answer.

- What will be the number name for 8?
(a) eihgt (b) eight (c) eeight (d) egiht
- Which number is the smallest among the given numbers?
(a) 6 (b) 2 (c) 5 (d) 3
- What comes before number 7?
(a) 6 (b) 4 (c) 7 (d) 9
- What comes after number 5?
(a) 2 (b) 9 (c) 4 (d) 6
- Choose the correct ascending order of the given numbers.
3, 8, 2, 9
(a) 2, 9, 8, 3 (b) 8, 3, 2, 9 (c) 2, 8, 9 (d) 9, 8, 3, 2

B. Fill in the blanks.

- Number five comes after Four.
- The number name for number 5 is Five.
- The number name for number 9 is Nine.
- Number 6 comes before 7.
- A cricket ball is smaller than a basketball. (smaller/bigger)

C. Write True or False.

- The numeral 4 is written as four. T
- 6 is between 5 and 8. F
- Lion is smaller than giraffe. T
- Two is less than 5. T
- 9 is more than 6. T

D. Short Answer Type Questions

- Arrange the numbers 4, 2, 1, 6, 7 in ascending order. 1, 2, 4, 6, 7
- Arrange the numbers 7, 3, 2, 5, 9 in descending order. 9, 7, 5, 3, 2
- Count the number of apples given in the picture and write its number name



4. Count the number of objects and find the number that comes just before it.








5. Count the number of objects and find the number that comes just after it.



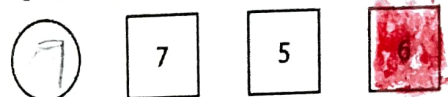

E. Long Answer Type Questions

1. Count the animals and write their numbers and number names.





	Number	Number Name
(a) 	<input type="text" value="3"/>	<input type="text" value="Three"/>
(b) 	<input type="text" value="4"/>	<input type="text" value="Four"/>
(c) 	<input type="text" value="5"/>	<input type="text" value="Five"/>
(d) 	<input type="text" value="8"/>	<input type="text" value="Eight"/>
(e) 	<input type="text" value="3"/>	<input type="text" value="Three"/>

2. Count the number of objects and write it in a circle. Then colour the box with the number that comes just before it.



3. Make the number of flowers equal on both sides by drawing more flowers.



- F. Choose the correct option out of the following choices for the given assertion and reason questions.

- (a) Both A and R are true, and R is the correct explanation of A.
 (b) Both A and R are true but R is not the correct explanation of A.
 (c) A is true but R is false.
 (d) A is false but R is true.

1. **Assertion (A):** If Aman has 4 cookies and he eats 4 cookies, he is left with 1 cookie.

Reason (R): If Aman has 4 cookies and he eats 4 cookies, he is left with 0 cookie.

2. **Assertion (A):** 2 is more than 3.

Reason (R): 2 is less than 3 and comes before 3 in the counting. *au*

3. **Assertion (A):** Between the numbers 6 and 3, 6 is the bigger number.

Reason (R): Since 6 comes after the number 3, thus 6 is the bigger number. *d*

4. **Assertion (A):** When we count, each number represent more object than the previous number. *a*

Reason (R): Counting involves adding one each time to move to the next number, which represents an additional object.

5. **Assertion (A):** 10 is more than 5. *C*

Reason (R): A bigger number always comes before a smaller number.

Competency-based Questions
Which set has more cups?

SET A



SET B



SET C ✓



SET D

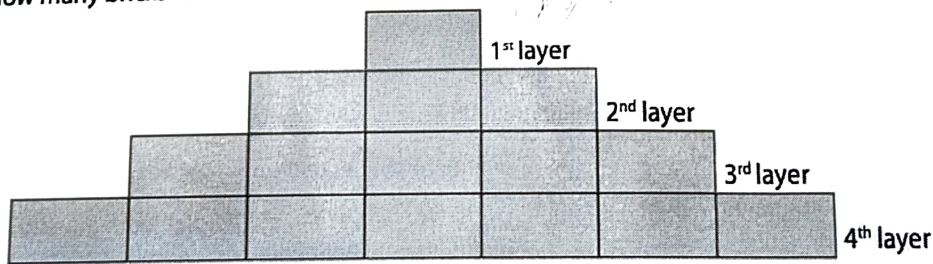


H. Apply Your Learning


1. Aryan bought 9 marbles. Tisha bought 4 marbles less than him. How many marbles did Tisha buy? *marbles 10*
2. Kishore has 7 balls. Joseph has 3 balls more than Kishore. How many balls does Joseph have. *10*
3. Naina has 3 two-rupee coins. Aniket has 2 one-rupee coins. Manisha has 1 five rupee coin. How much money do they have altogether? *13*

I. Questions Based on Higher Order Thinking Skills

1. How many bricks will be there in the 5th layer?



2. Solve the answers given in the box. Then arrange them in the form of descending order.



9, 7, 6, 5

23.04.25



DATE _____

PAGE _____

HW

Number Names [31-50]

TO

31 -

32 -

33 -

34 -

35 -

36 -

37 -

38 -

39 -

40 -

23.04.25



DATE _____

PAGE _____ Hw

T 0

41 -

42 -

43 -

44 -

45 -

46 -

47 -

48 -

49 -

50 -

23/04/25



DATE _____

PAGE _____

Cw

L-2

Q Name the following:-

1) Two things that we can do with our hands

~~Eat~~

~~write~~

2) Two things that we can do with our legs

~~Run~~

~~Jump~~

3) Two activities that we can do with our hands and legs



DATE

PAGE

~~Swim~~

~~SKipping~~

(P)

~~23/04/25~~